

中学社会 地理的分野 世界地理編

世界の諸地域 アジア州

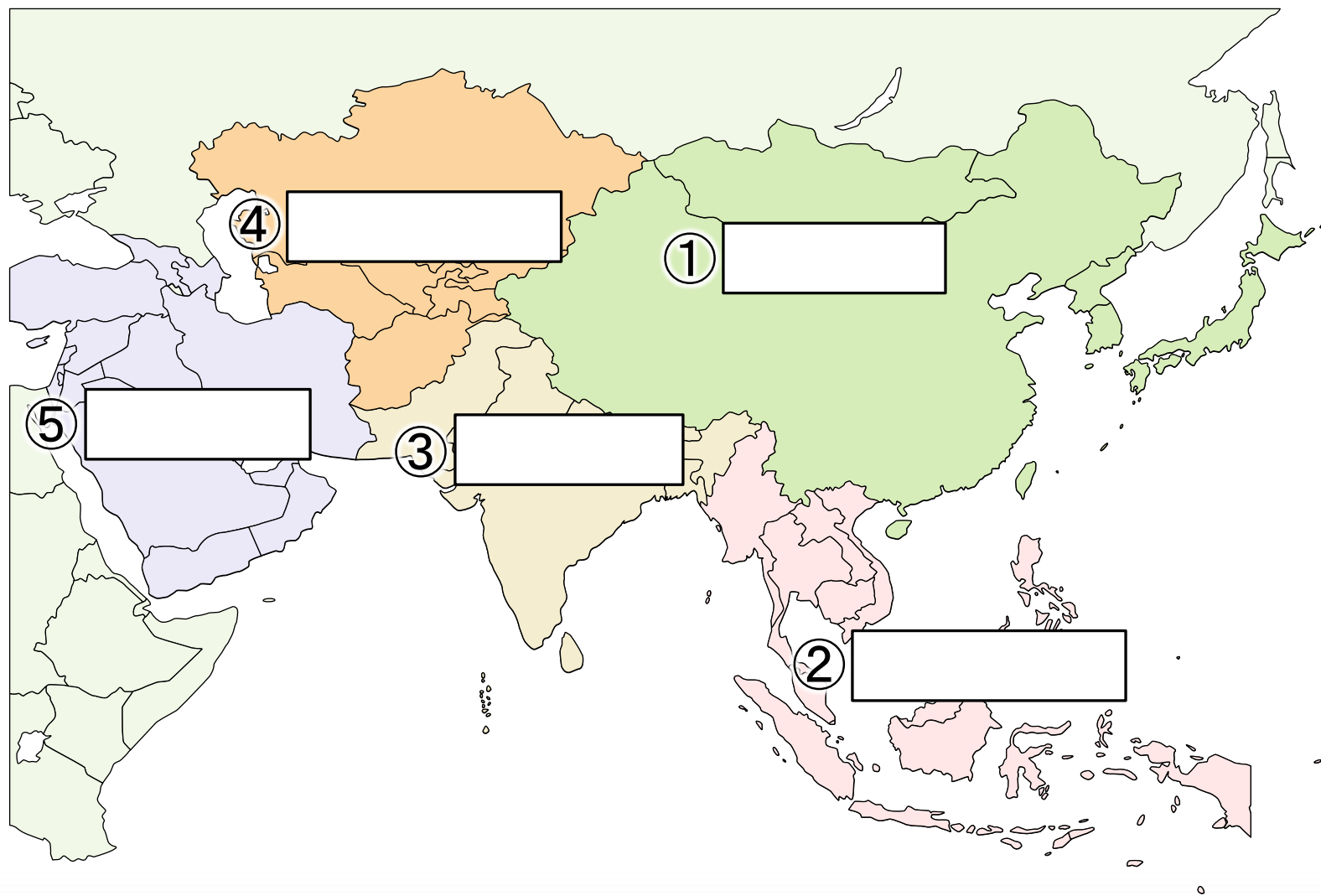
2 地域区分・国名

基本の解説と問題

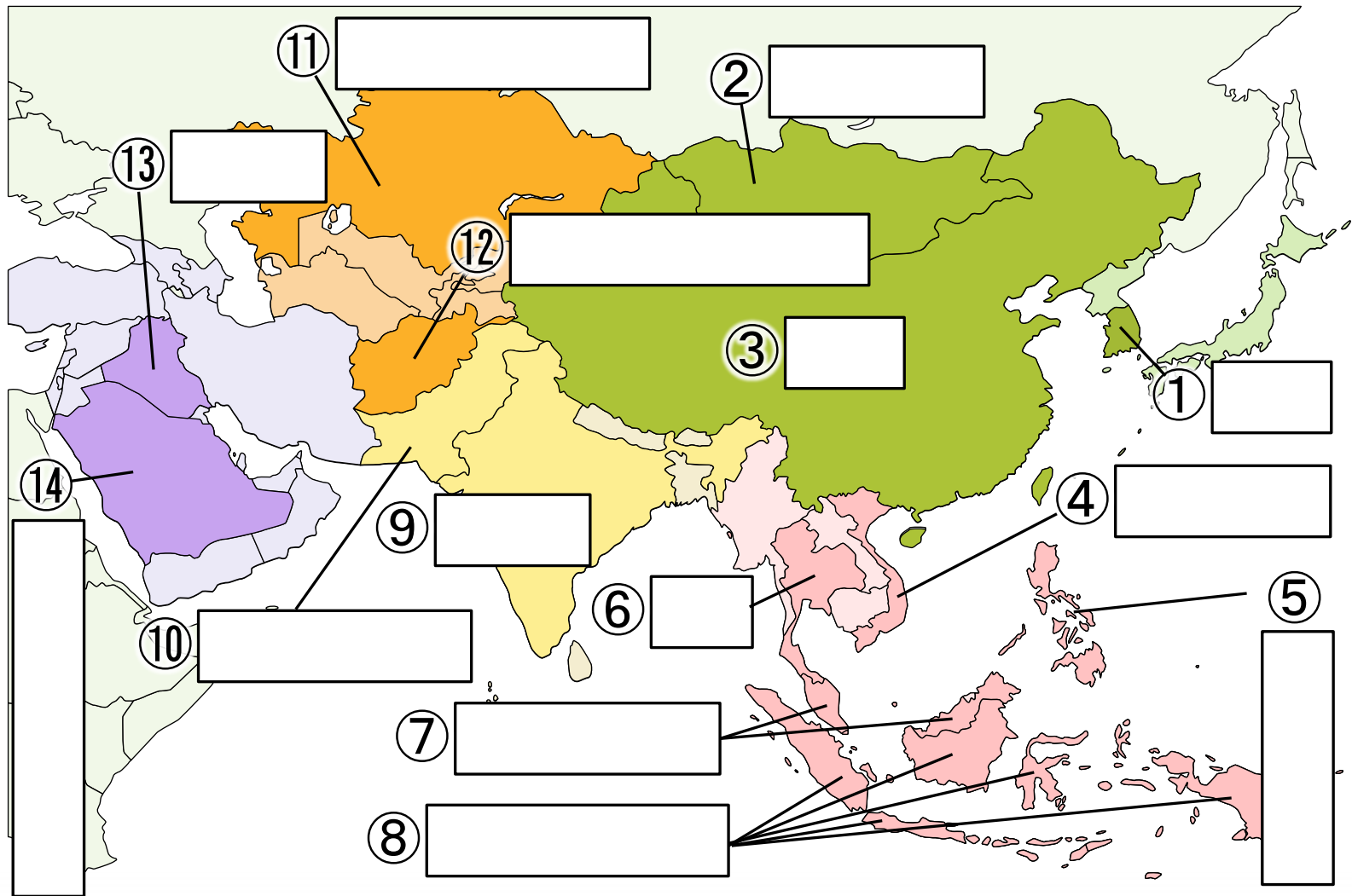


【担当講師】
秀浦 りき

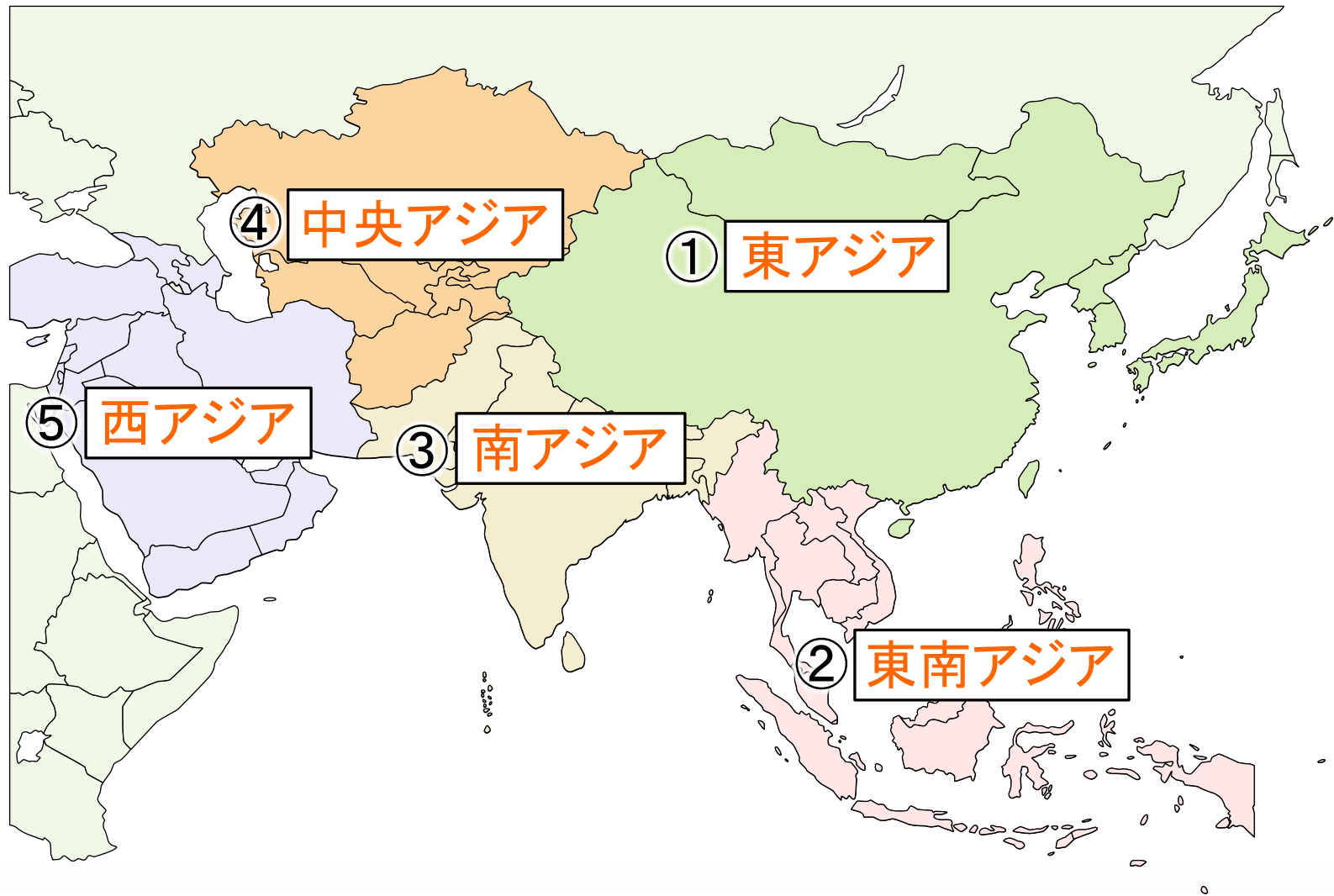
1 アジア州の地域区分



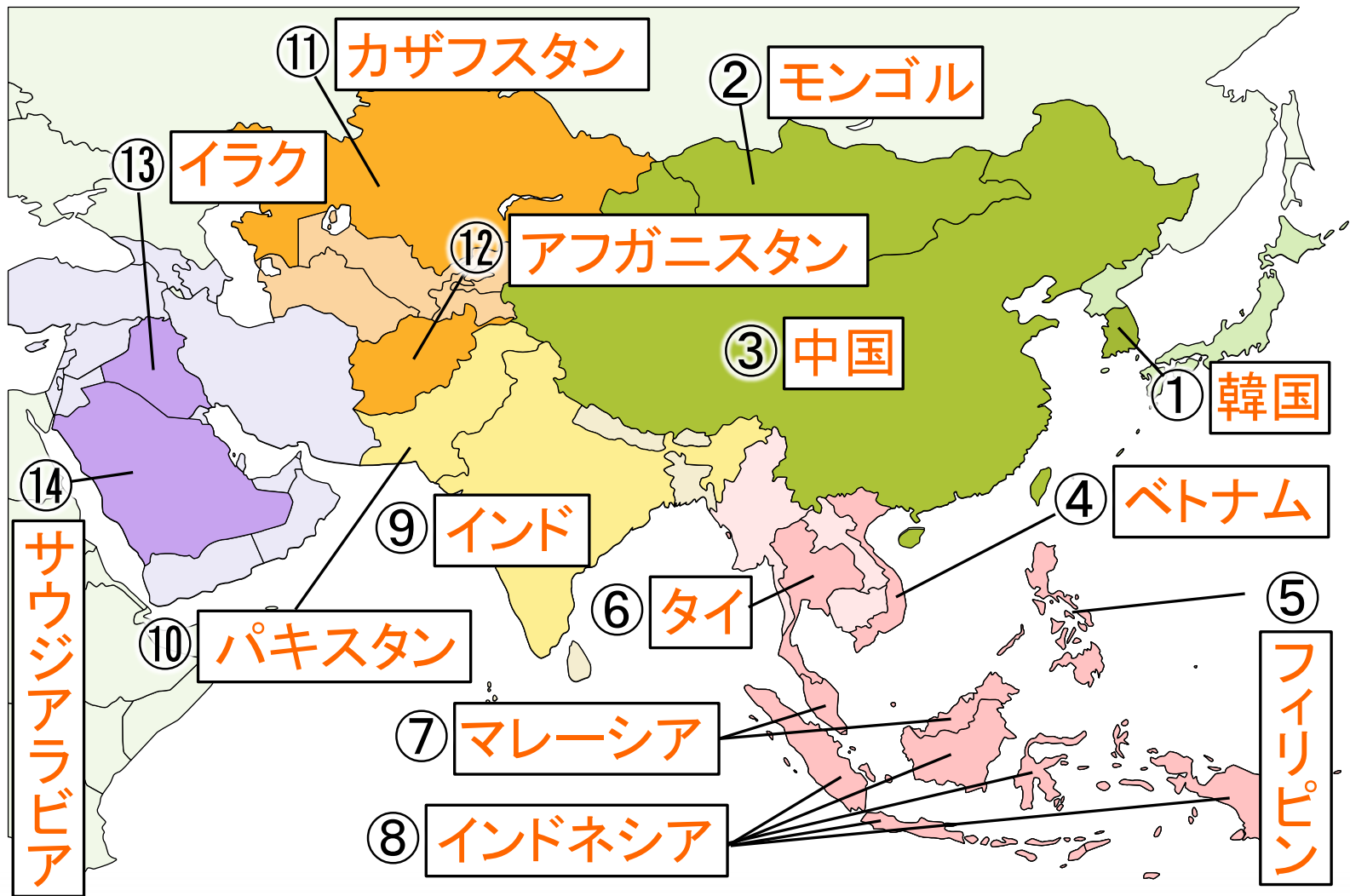
2 アジア州 おもな国名



1 アジア州の地域区分



2 アジア州 おもな国名



【東アジア】

- ・中国・韓国・モンゴル・北朝鮮

【東南アジア】

- ・ベトナム・タイ・マレーシア・インドネシア・フィリピンなど

【南アジア】

- ・インド・パキスタンなど

【中央アジア】

- ・カザフスタン・アフガニスタンなど

【西アジア】

- ・サウジアラビア・イラク・イランなど



基本問題

地図を見て、①は州の名前、
②～⑥は国名を答えなさい。

①

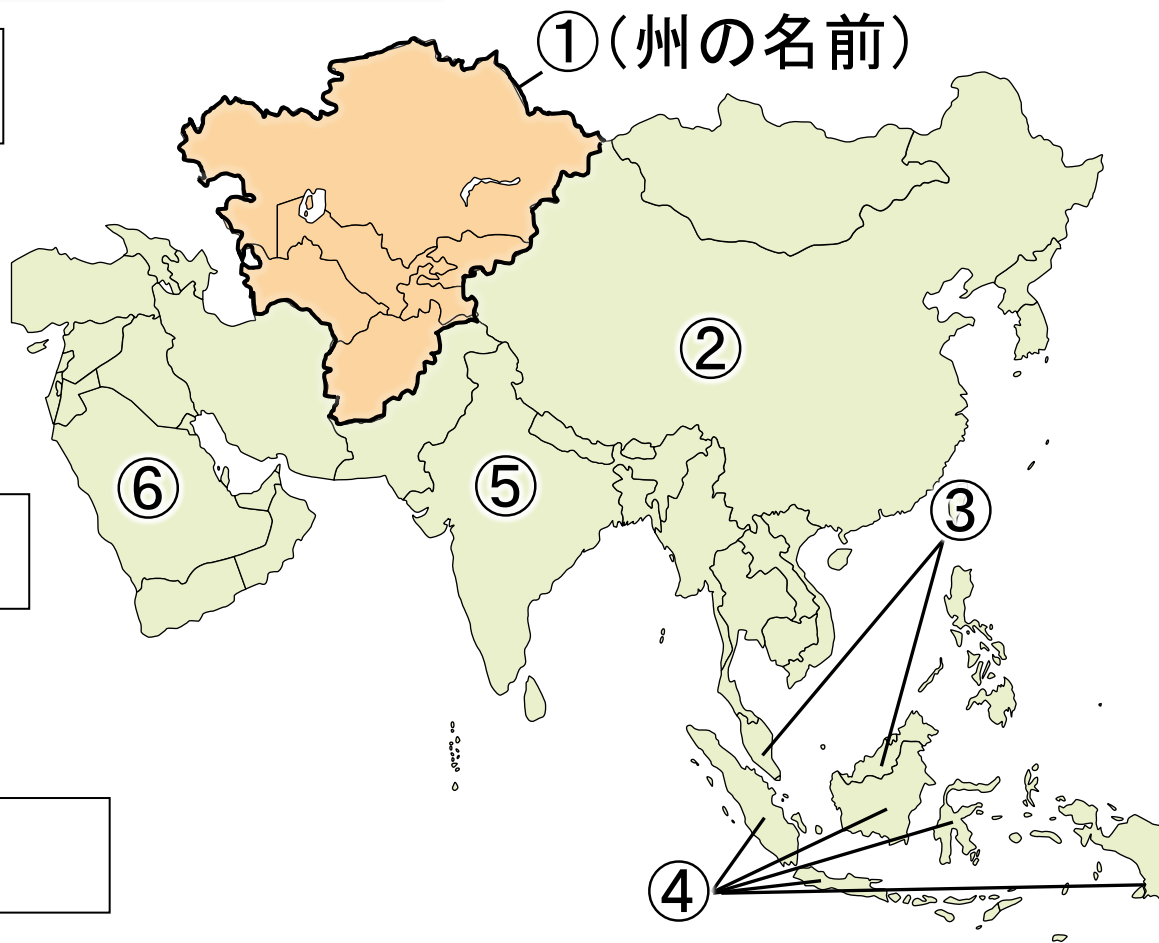
②

③

④

⑤

⑥



基本問題

地図を見て、①は州の名前、
②～⑥は国名を答えなさい。

① 中央アジア

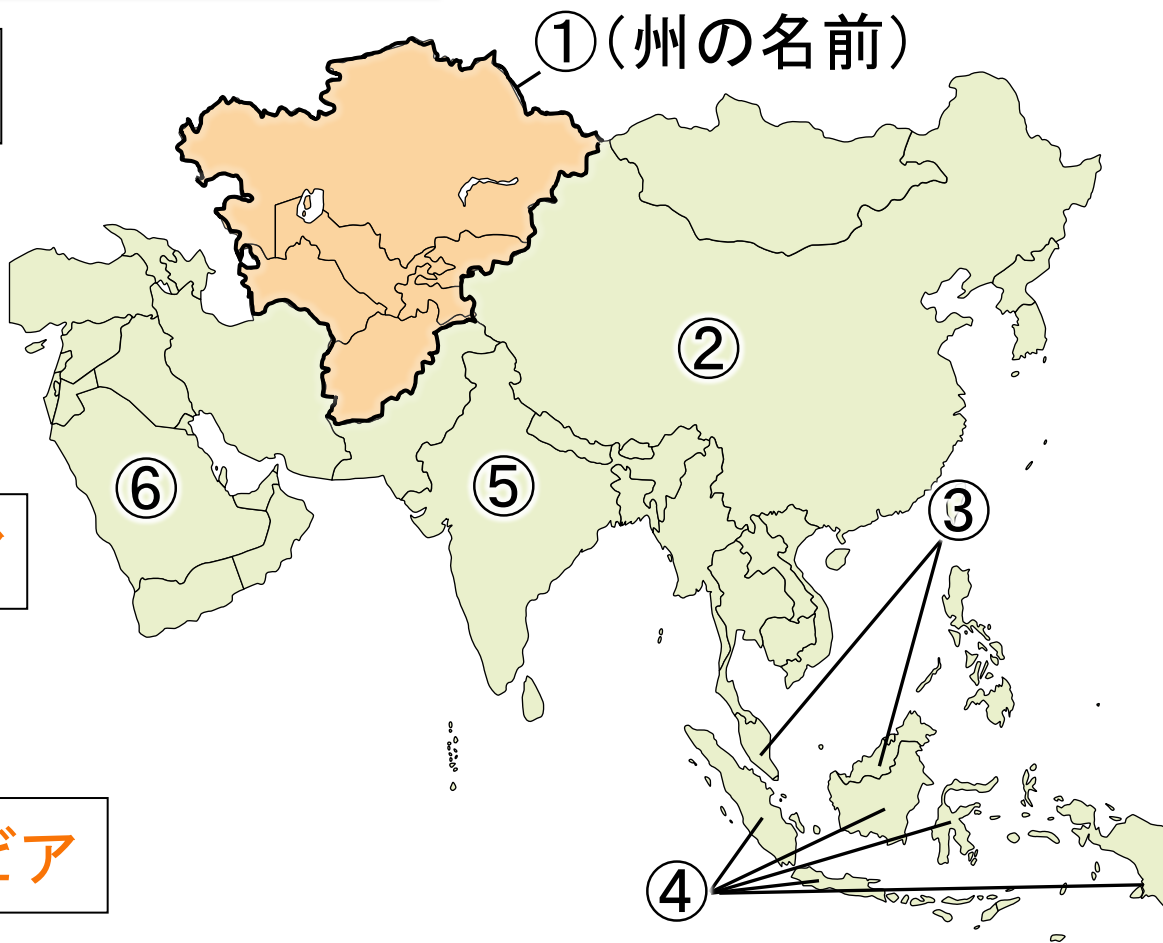
② 中国

③ マレーシア

④ インドネシア

⑤ インド

⑥ サウジアラビア



アジア州 2. 地域区分・国名

応用問題



応用問題 ① ~ ⑤ の問いに答えなさい。

① 地図を見て、次の問いに答えなさい。

(1) 地図はアジア州のうち何という地域か。

(2) 地図中①～④の国名を答えなさい。

①

②

③

④



次のページへつづく

2 地図中を見て、次の問いに答えなさい。

(1) 地図はアジア州のうち何という地域か。

(2) ①～⑨の国名を答えなさい。

①

⑧

②

⑨

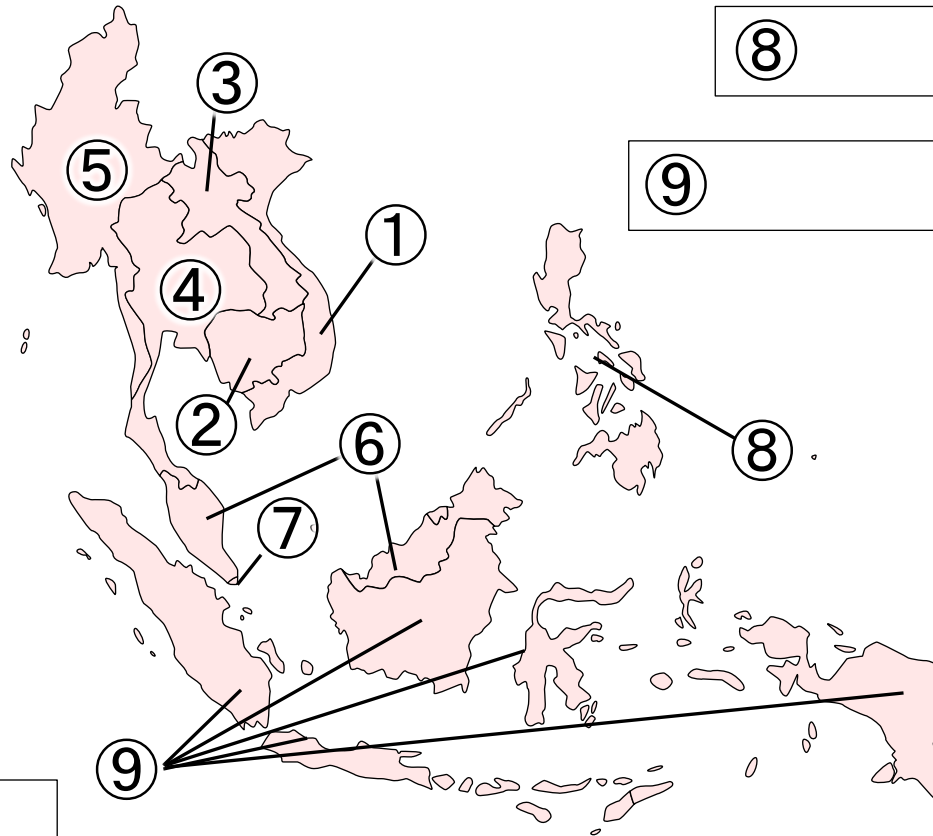
③

④

⑤

⑥

⑦



次のページへつづく

3 地図中を見て、次の問いに答えなさい。

(1) 地図はアジア州のうち何という地域か。

(2) ①～⑤の国名を答えなさい。

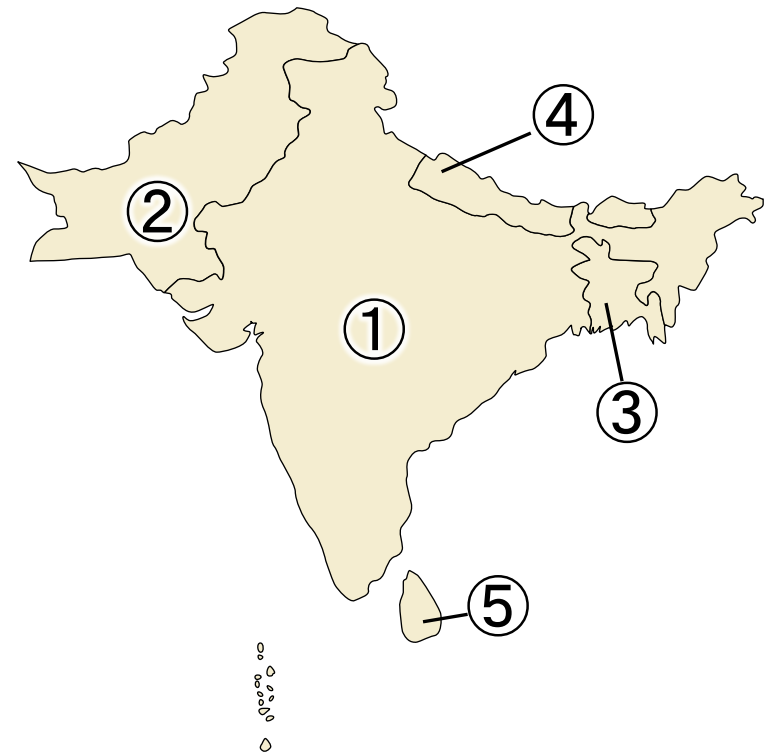
①

②

③

④

⑤



次のページへつづく

4 地図中を見て、次の問いに答えなさい。

(1) 地図はアジア州のうち何という地域か。

(2) ①～⑥の国名を答えなさい。

①

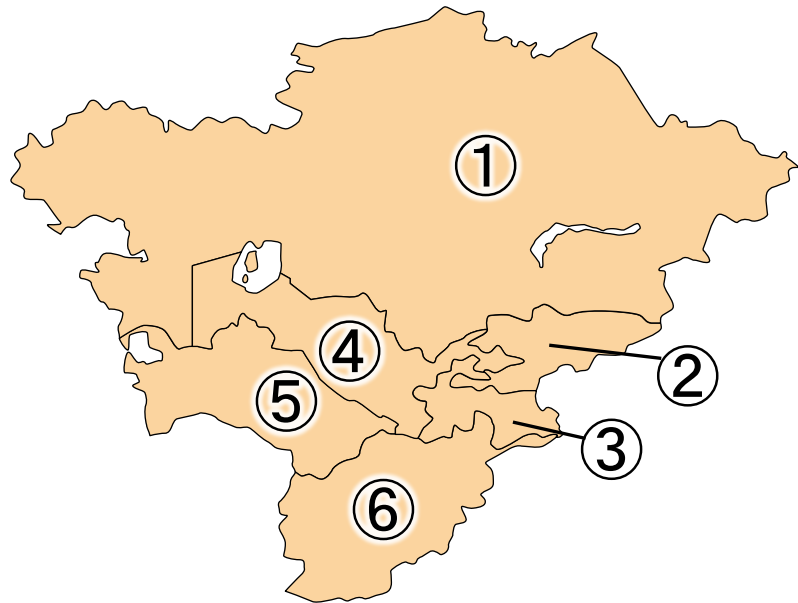
②

③

④

⑤

⑥



次のページへつづく

5 地図中を見て、次の問いに答えなさい。

(1) 地図はアジア州のうち何という地域か。

(2) ①～⑦の国名を答えなさい。

①

②

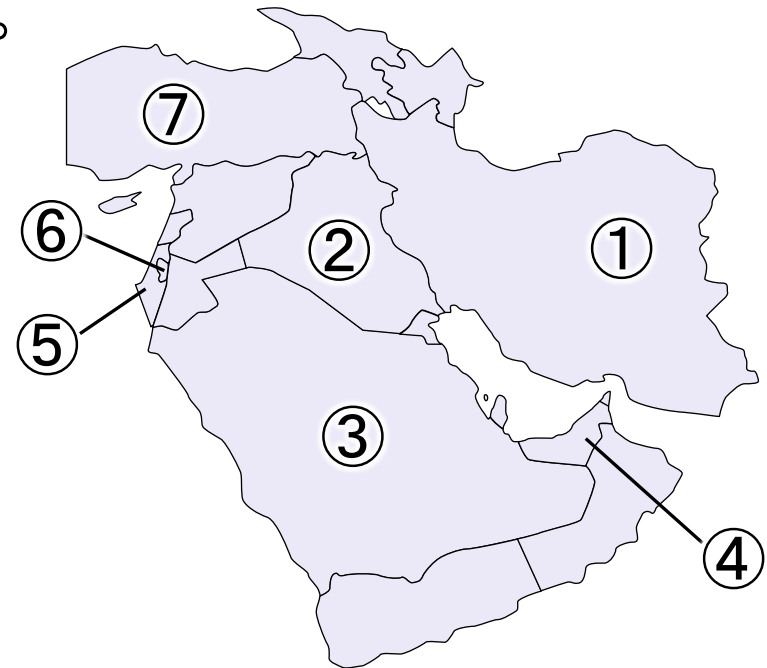
③

④

⑤

⑥

⑦



【以上で問題は終わりです】

それでは、応用問題を
がんばって解いてください。



確認・応用問題・Practiceの解答(PDF & 解説動画)は、

<http://e-clus.com/> で購入できます。



フリー学習動画のイークルース
e-CLUS
中学生向けフリー学習動画のイークルース (e-CLUS)。中学の基本問題から応用までを無料動画で学びます

ホーム 講座のご案内 講座の料金 教材の種類 動画を使った学習方法 運営会社 お問い合わせ

中学の基本問題・解説から応用問題まで
無料動画 **で自立学習**

中学校3年間で勉強する英語・数学・理科・社会の学習項目を、動画投稿サイトを使って基礎から応用まで無料で学習できます。
応用問題の解答が知りたくなったら有料の解答・解説動画をご利用ください。
マイペースで自立学習ができる学習サイトです。

英語・数学・理科・社会の学習項目を**動画で配信中!**

- 中学英語 動画をチェック!
- 中学数学 動画をチェック!
- 中学理科 動画をチェック!
- 中学社会 動画をチェック!
- 季節講座 動画をチェック!

無料動画はユーザー登録しなくても視聴できるって!

ユーザー登録 (無料) →
e-CLUSの指導方法 →
動画学習で成績がアップする理由
教科書対応表で学習範囲をチェック! →
中学英語 →

パソコンOK! スマホOK! タブレットOK!



学習動画イークルース

検索

