

# 中学社会 地理的分野

## 第1章 世界の姿 2. 世界の地域区分

### 〈基本問題〉



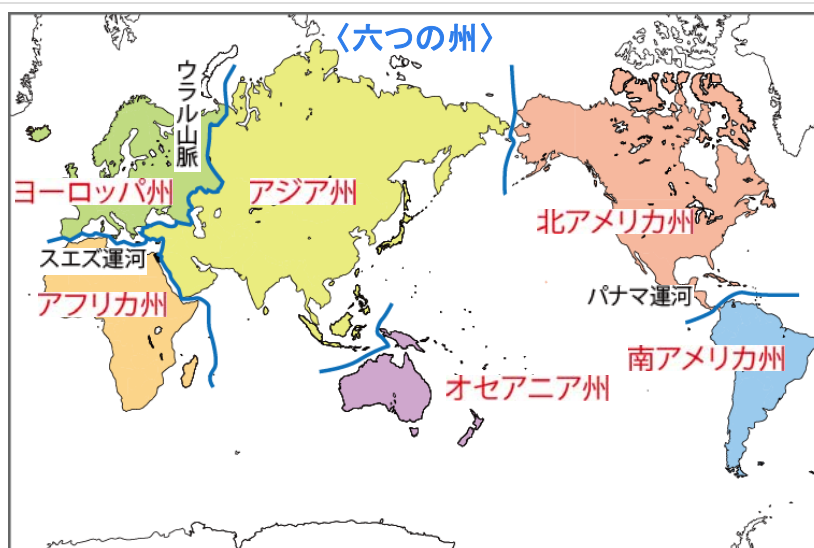
【担当講師】  
秀浦 りき

(C)2013 Prisola International inc.

1

1

## 第1章 世界の姿 2. 世界の地域区分

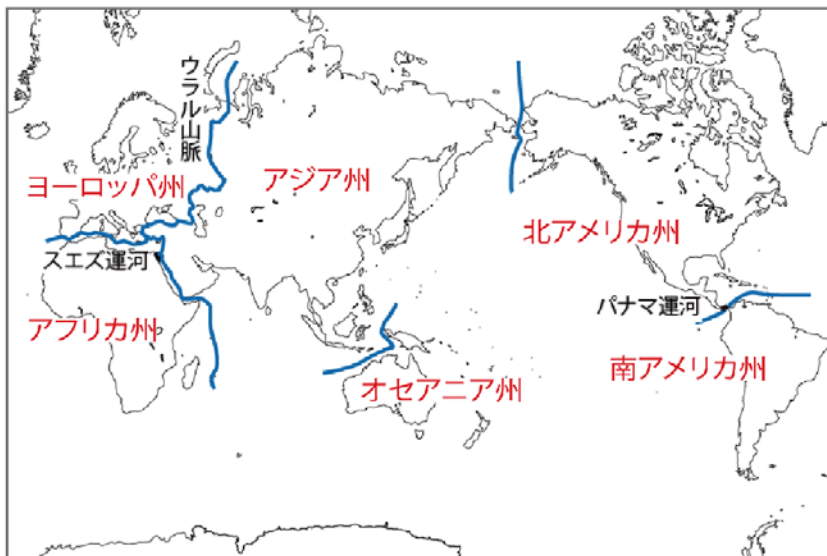


(C)2013 Prisola International inc.

2

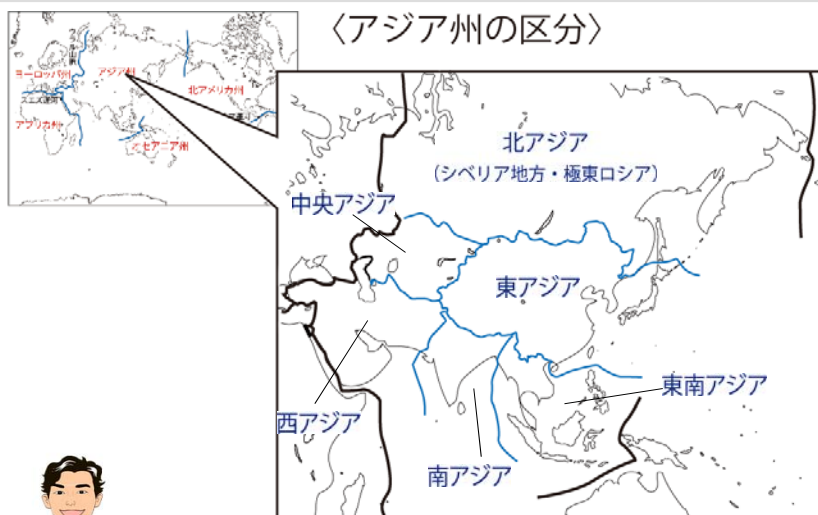
2

第1章 世界の姿 2. 世界の地域区分



3

第1章 世界の姿 2. 世界の地域区分



4

## 世界の姿 ②世界の地域区分

◇世界は6つの州に区分されることがよくある。

■ユーラシア大陸では

ウラル山脈を境にアジア州とヨーロッパ州に分けられている。

スエズ運河より西をアフリカ州といい、

パナマ運河を境に北アメリカ州と南アメリカ州に分けられている。

オーストラリアはオセアニア州に属している。

■アジア州は、さらに細かく分けられる。

東アジア…日本、中国、韓国など

東南アジア…タイ、ベトナム、マレーシアなど

南アジア…インド、パキスタンなど

西アジア…サウジアラビア、イラクなど

中央アジア…アフガニスタンなど

北アジア…シベリア地方・極東ロシア

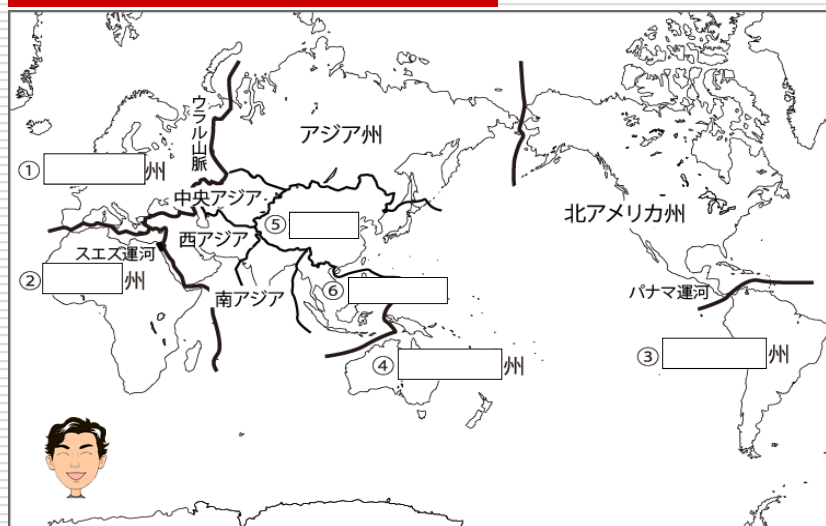


(C)2013 Prisola International inc.

5

5

## 基本問題 次の空欄にあてはまる語句を答えなさい。

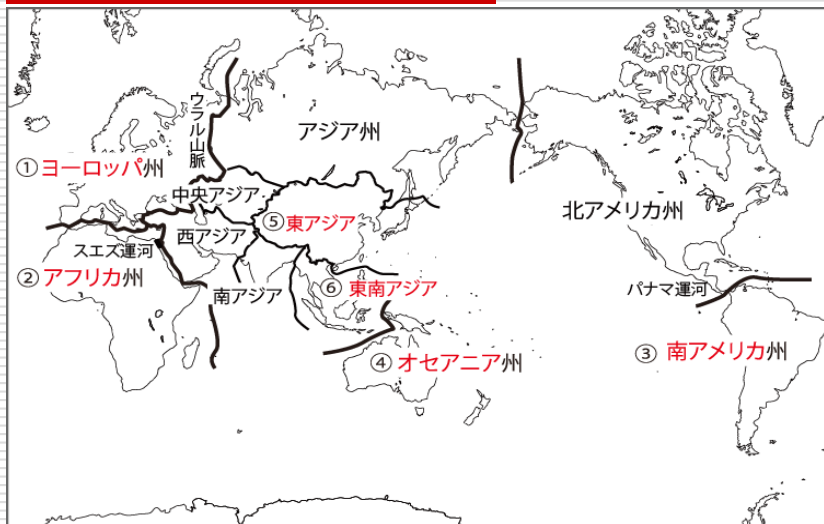


(C)2013 Prisola International inc.

6

6

## 基本問題 次の空欄にあてはまる語句を答えなさい。



(C)2013 Prisola International inc.

7

7

## 応用問題 次の空欄にあてはまる語句を答えなさい。

- (1) A・Bの州をそれぞれ何と  
いうか。

A  州B  州

- (2) AとBの州を分ける山脈を  
何というか。

 山脈

- (3) Bの州を細かく分けるとき、  
サウジアラビアやイラクが

属す地域を地図中の①～⑤の中から1つ選び、記号を答えなさい。また、その地域名を  
答えなさい。

記号  地域名 

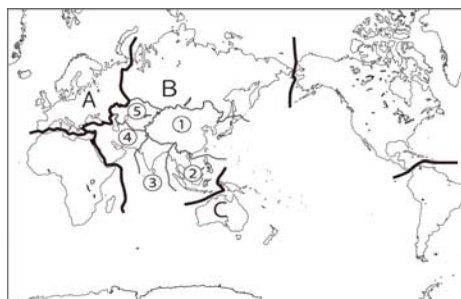
- (4) Cの大陸が属する州について正しく述べている文はどれか。次のア～エから1つ選び、  
記号を答えなさい。

ア 州と大陸の名前が異なる。

イ パナマ運河を境に分かれている。

ウ スエズ運河を境に分かれている。

エ 六大陸のうち最も大きな州である。



(C)2013 Prisola International inc.

8

8

それでは、応用問題を  
がんばって解いてください。



(C)2013 Prisola International inc.

9