

中学社会 地理的分野

第2章 世界の生活・環境

3. 乾燥した地域

〈基本問題〉

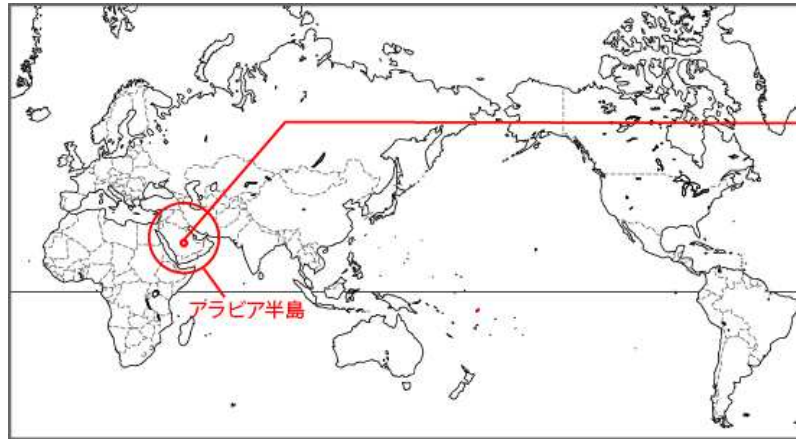


【担当講師】
秀浦 りき

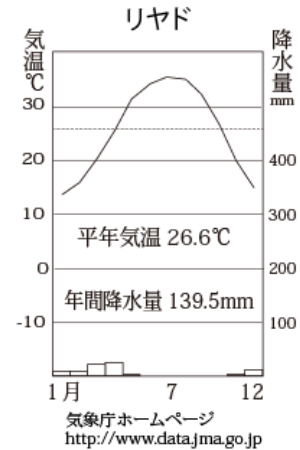
第2章 世界の生活・環境 3. 乾燥した地域

乾燥した地域

アラビア半島の暮らし



■気候



砂漠が広がる。
雨が少ないため、
草木はほとんどない。
地下水路や井戸で
水を得るオアシスがある。

■人々の様子



↑
チャドル

衣服は長そでで、
たけが長い。
(暑い日差しや
砂ぼこりから守る
ため)

■住居



家の壁は
日干しれんがを
使用。
(森林が少ない
ため)

■農業

乾燥に強い小麦、
なつめやしを栽培。
オアシス周辺では
羊やらくだなどの
遊牧が行われてきた。

第2章 世界の生活・環境 3. 乾燥した地域

アラビア半島の暮らし

■気候

砂漠が広がる。雨が少ないため、草木はほとんどない。
地下水路や井戸で水を得るオアシスがある。

■人々の様子

暑い日差しや砂ぼこりから守るため、衣服は長そでで、たけが長い。
チャドル。

■住居

森林が少ないため、家の壁は日干しれんがを使用している。

■農業

乾燥に強い小麦、なつめやしを栽培。
オアシス周辺では羊やらくだなどの遊牧が行われてきた。

■生活の変化

サウジアラビアでは原油を輸出した利益で開発。淡水化技術の導入。
スプリンクラーで大規模農業が可能になったが、大量の地下水のくみ上げが問題となっている。

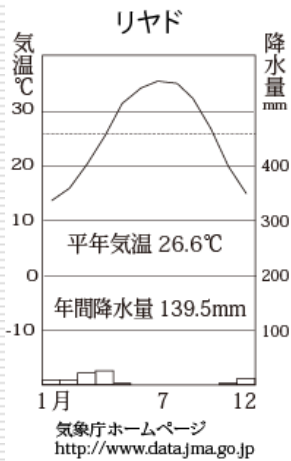


基本問題

次の空欄にあてはまる語句を答えなさい。

乾燥した地域のくらし **アラビア半島** のくらし

■気候



が広がる。
雨がため、
草木はほとんどない。
地下水路や井戸で
水を得るが
ある。

■人々の様子

衣服は長そでで、たけが長い。
 (女性の衣服)



■住居

家の壁はを使用。
(森林が少ないため)



■農業

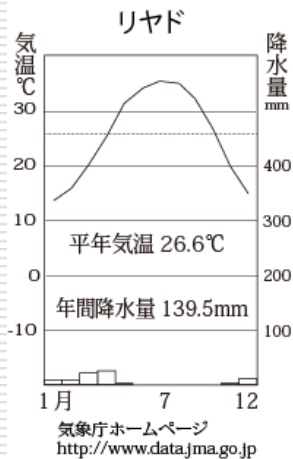
乾燥に強い小麦、なつめやしを栽培。
オアシス周辺では羊 やらくだ などが行わる。

基本問題

次の空欄にあてはまる語句を答えなさい。

乾燥した地域のくらし アラビア半島 のくらし

■気候



砂漠が広がる。
雨が**少ない**ため、
草木はほとんどない。
地下水路や井戸で
水を得る**オアシス**が
ある。

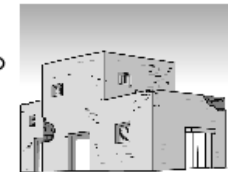
■人々の様子

衣服は長そでで、たけが長い。
チャドル (女性の衣服)



■住居

家の壁は**日干しれんが**を使用。
(森林が少ないため)



■農業

乾燥に強い小麦、なつめやしを栽培。
オアシス周辺では羊 やらくだ など**遊牧**が行わる。



応用問題 次の空欄にあてはまる語句を答えなさい。

アラビア半島の暮らしについて、次の問いに答えなさい。

①アラビア半島の場所はどこか。略地図中のア～エから1つ選び、記号を書きなさい。

②アラビア半島の気候を述べた文として正しいものは次のうちどれか。ア～エから1つ選び、記号を答えなさい。

ア 赤道付近の高地では、昼夜の気温差が20～30℃になる。

イ 雨が少なく、砂漠が広がっている。

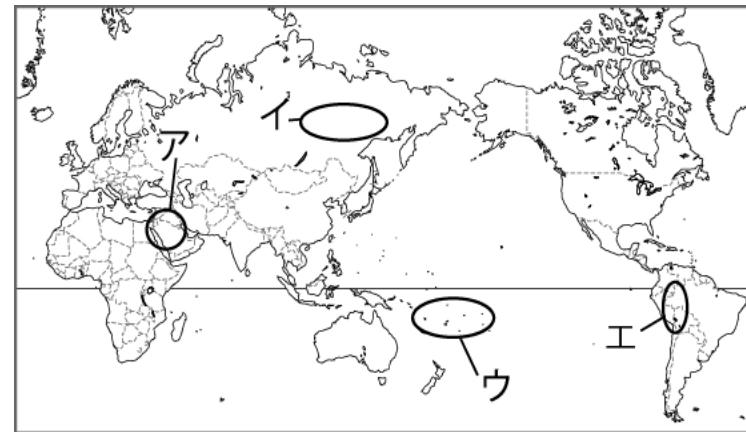
ウ 冬は-30℃になり、雪に覆われることもある。

エ 一年を通して気温が高く、雨が多い。

③アラビア半島で見られる、わき水や地下水路、井戸などで水の得られる場所を何というか。

④右の絵はアラビア半島の女性が着用している伝統的な衣服である。この衣服を何というか。

⑤アラビア半島で行われている、草や水を求めて移動しながら羊・らくだを飼育することを何というか。



それでは、応用問題を
がんばって解いてください。

